




Предмет	География, ЕГЭ 2023
Задание №	7
Тема	Структура занятости населения. Отраслевая структура хозяйства
Уровень сложности	Базовый

Задание на установление соответствия между страной и распределением по секторам экономики экономически активного населения, между страной и отраслевой структурой ВВП контролирует умение сравнивать с использованием диаграмм распределение по секторам экономики экономически активного населения и отраслевую структуру ВВП в различных странах.

### Пример задания.

Установите соответствие между страной и диаграммой, отражающей распределение её экономически активного населения по секторам экономики: к каждой позиции, данной в первом столбце, подберите соответствующую позицию из второго столбца.

 – промышленность
  – сельское хозяйство
  – сфера услуг

СТРАНА	ОПРЕДЕЛЕНИЕ ЭКОНОМИЧЕСКИ АКТИВНОГО НАСЕЛЕНИЯ
А) Непал	1) 
Б) Мексика	2) 
В) Швеция	3) 

Запишите в таблицу выбранные цифры под соответствующими буквами.

Ответ:	А	Б	В

1. Помните, что успешность выполнения задания зависит от знания типологических особенностей стран с разным уровнем развития экономики и экономических особенностей стран мира.

2. Обратите внимание, что в первом столбце задания на соответствие представлены страны, отличающиеся по уровню социально-экономического развития. Они обозначены буквами А, Б и В. Одна из трёх стран, как правило, относится к экономически развитым странам, две другие – к развивающимся странам, но с различными особенностями экономики.

3. Посмотрите внимательно на условные знаки, «легенду», в задании: при выполнении задания соотнесите сектора диаграмм, отражающие структуру ВВП или распределение экономически активного населения со шкалами «легенды». Круговые диаграммы обозначены цифрами.

4. Необходимо знать о том, что во всех экономически развитых странах основное место в структуре экономики принадлежит непродовольственной сфере (сфере услуг), а в наиболее отсталых, беднейших странах мира – сельскому хозяйству.

5. Следует знать, что аграрная структура экономики характерна для стран с преобладающей долей сельского хозяйства в структуре ВВП, например, стран Африки: Чад, Гвинея-Бисау, Мали, Сьерра-Леоне или для стран с преобладающей долей занятых в сельском хозяйстве в структуре занятости населения, например, многих стран Африки: Ангола, Бурунди, Камерун, ЦАР, ДР Конго, Кот-д-Ивуар, Эритрея, Эфиопия, Гвинея, Гвинея-Бисау, Кения, Лесото, Либерия, Мадагаскар, Малави, Мали, Мозамбик, Нигер, Руанда, Сьерра-Леоне, Сомали, Южный Судан, Уганда, Замбия и т.д.; для стран зарубежной Азии: Бутан, Индия, Пакистан, Афганистан, Бангладеш, Лаос, Непал, Мьянма.

Постиндустриальная структура экономики характерна для стран с преобладающей долей сферы услуг в структуре ВВП или с преобладающей долей занятых в структуре занятости населения. К ним относятся наиболее экономически развитые страны: страны Европы, США, Канада, Япония, Южная Корея, Сингапур, Австралия, Новая Зеландия, Израиль; многие страны Азии, Латинской Америки, некоторые арабские страны Северной Африки: Алжир, Ливия, Марокко, Тунис, Египет. (данные на 2019 г. <https://data.worldbank.org/indicator/SL.SRV.EMPL.ZS?view=char>).

6. Типичные ошибки связаны с ошибочным представлением о том, что в некоторых экономически развитых странах с высоким уровнем развития сельского хозяйства доля сельского хозяйства в ВВП и в структуре занятости населения велика. Учтите, это не так!

7. При подготовке к экзамену рекомендуется также акцентировать внимание на особенностях отраслевой структуры хозяйства внутри групп развитых и развивающихся стран, анализировать статистические данные, характеризующие структуру ВВП и структуру занятости населения таких стран, как например: Мексика и Непал, Чад и Саудовская Аравия и т. п.; делать соответствующие выводы.

8. Имейте в виду, что в отраслевой структуре ВВП и структуре

занятости населения в развивающихся странах Латинской Америки, Юго-Западной Азии, некоторых стран Юго-Восточной Азии доля сельского хозяйства значительно меньше, чем в структуре ВВП и занятости населения развивающихся стран Тропической Африки, или Южной Азии, или отдельных стран Юго-Восточной Азии.

9. Важно не только уметь классифицировать страны по уровню развития, но и иметь пространственное представление об их положении на политической карте. Ошибки часто связаны с незнанием, где находится Непал, Эквадор, Гаити и т. д.

10. Будьте внимательны при записи ответа. Ответ состоит из цифр, которые нужно вписать в таблицу под соответствующими буквами, которыми обозначены страны, а не из названий стран.